



FICHAS PARA IMPRIMIR

Recursos Educativos y Fichas para Imprimir y Descargar



INICIAL



PRIMARIA



SECUNDARIA



RAZ. MATEMÁTICO

CUARTO DE PRIMARIA

Masa

En una cesta hay 5 panes. Si cada pan pesa 300 g, ¿cuánto pesarán los 5 panes?

* Observamos que el peso aproximado de 1 pan es _____ g.

* Como la cesta tiene 5 panes, multiplicamos el peso aproximado de cada pan por el número de panes que contiene la cesta.

$$300 \text{ g} \times 5 = \text{_____ g} = \text{_____ kg}$$




Los 5 panes pesarán _____ kg, aproximadamente.

Ahora, hazlo tú:


1. Encierra en un círculo la medida más razonable.



4000 kg o 5 t

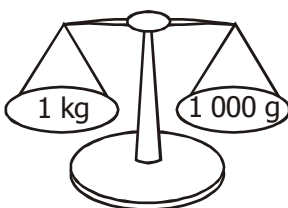


30 g o 700 g



50k g o 50 g

2. Rosa observa en la tienda de su papá que la pesa de 1 kilogramo equivale a 1 000 gramos. ¿A cuántos gramos equivalen las siguientes pesas?



Si 1 kilogramo es igual a 1000 gramos entonces:

$$\frac{3}{4} \text{ de } 1000 = \frac{3}{4} \times 1000 = \frac{3000}{4} = 750 \text{ g}$$

$$\frac{1}{2} \text{ de } 1000 = \frac{1000}{2} = 500 \text{ g}$$

$$\frac{1}{4} \text{ de } 1000 = \frac{1000}{4} = 250 \text{ g}$$

$$\frac{3}{4} \text{ de kg equivale a } \underline{\hspace{2cm}} \text{ g}$$

$$\frac{1}{2} \text{ de kg equivale a } \underline{\hspace{2cm}} \text{ g}$$

$$\text{y } \frac{1}{4} \text{ de kg equivale a } \underline{\hspace{2cm}} \text{ g}$$

Ahora, hazlo tú:

1. Completa las oraciones con la palabra **más** o **menos** según corresponda:

- a) 1 kg de papas es que 400 g de papas.
- b) kg de arroz es que kg de arroz.
- c) 750 g de camote es que 1 kg de camote.
- d) 3020 g de maíz es que 3 kg de maíz.
- e) 580 kg de cebolla es que 5800 g de cebolla.
- f) kg de harina es que 3500 kg de harina.
- g) 3 kg de pan es que 3 g de pan.

2. Colorea del mismo color las etiquetas que sean equivalentes:


750 g
 1 kg
 $\frac{1}{4}$ kg
 $\frac{1}{2}$ kg
 500 g
 1000 g
 250 g
 $\frac{3}{4}$ kg

Practicando

1. Encierra en un círculo la medida más razonable.




30 kg ó 30 g



4 t ó 84 kg




80 kg ó 80 g



10 g ó 10 kg



2000 g ó 2000 kg



100 g ó 100 kg

2. Completa las oraciones con los signos $>$, $<$ ó $=$ según corresponda.

- 0, 5 g de azúcar es _____ que 50 kg de azúcar.
- 3, 5 kg de fideos es _____ que 35 g de fideos.
- 250 g de sémola es _____ que 25 t de sémola.
- 3700 kg de galletas es _____ que 3, 7 kg de galletas.
- 40 g de caramelos es _____ que 40 g de caramelos.
- 820 kg de quinua es _____ que 820 g de quinua.

Retos para el hogar

1. Escribe el peso real y aproximado de los siguientes artículos:



2. Escribe $>$, $<$ ó $=$ según corresponda.

- 30 kg de carne _____ 30 000 g de carne.
- 140 g de queso _____ 7 g de queso.
- 25 kg de pescado _____ 80 kg de pescado.
- 36 t de madera _____ 9 t de madera.