



FICHAS PARA IMPRIMIR

Recursos Educativos y Fichas para Imprimir y Descargar



INICIAL



PRIMARIA



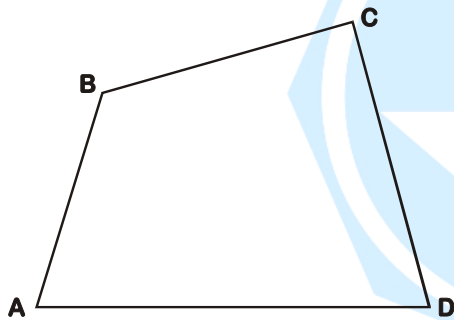
SECUNDARIA



Los Cuadriláteros

QUINTO DE PRIMARIA

DEFINICIÓN: _____



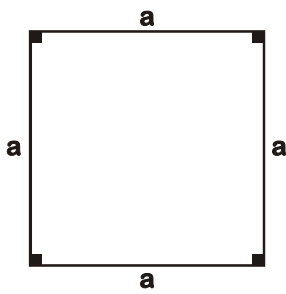
Elementos:

- Vértices : _____
- Lados : _____
- Diagonales : _____
- Ángulos Internos : _____

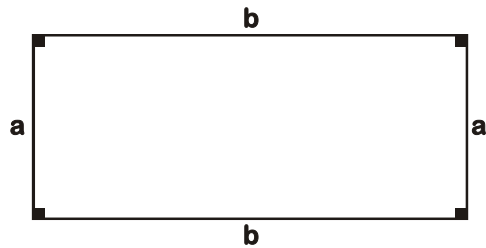
CLASIFICACIÓN:

A. Paralelogramos

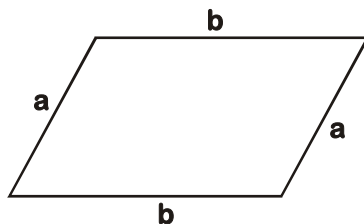
a. Cuadrado



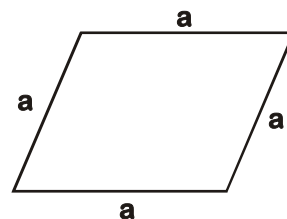
b. Rectángulo



c. Romboide



d. Rombo




Sabías que . . .

Un paralelogramo tiene dos pares de lados paralelos.



GEOMETRÍA

B. Trapecios

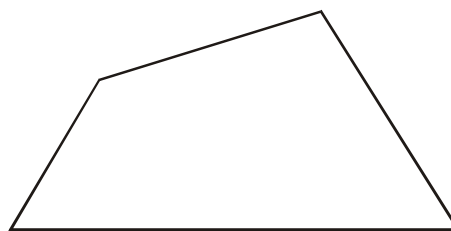


Sabías que . . .



Un trapecio tiene un par de lados paralelos.

C. Trapezoides



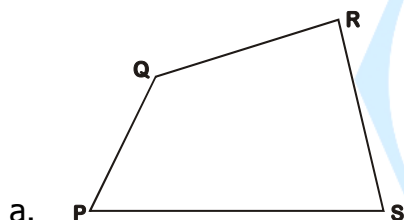
Sabías que . . .



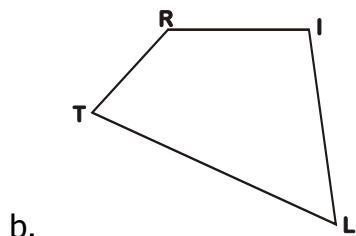
Un trapezoide no tiene ningún par de lados paralelos.

AHORA HAZLO TÚ

1. Indicar los elementos de cada gráfico:



- Lados : _____
- Vértices : _____
- Diagonales : _____



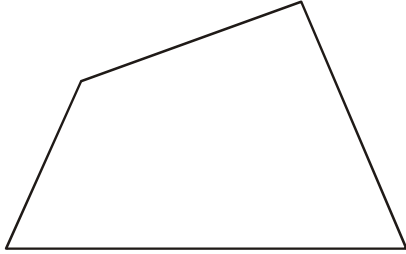
- Vértices : _____
- Lados : _____
- Diagonales : _____

2. Completar los espacios en blanco:

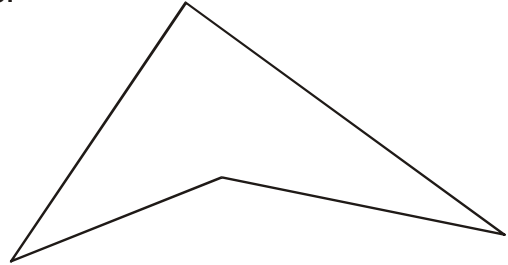
- a. El cuadrilátero que tiene un par de lados paralelos se llama _____.
- b. El cuadrilátero que no tiene lados paralelos se llama _____.
- c. El cuadrilátero que tiene dos pares de lados paralelos se llama _____.
- d. El cuadrilátero es un polígono que tiene _____ lados.

3. Traza las diagonales de los siguientes cuadriláteros.

a.



b.



c.



d.

