



INICIAL



PRIMARIA



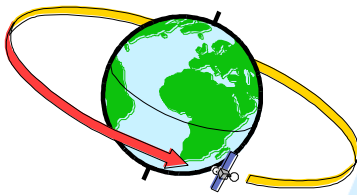
SECUNDARIA



Líneas Imaginarias

QUINTO DE PRIMARIA

Sobre el globo terrestre podemos trazar una serie de líneas y círculos imaginarios, de los cuales los más importantes son:

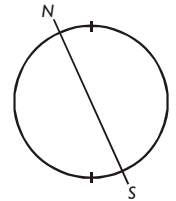


- | | |
|--------------------|------------------|
| 1.El eje terrestre | 3.Los paralelos |
| 2.El Ecuador | 4.Los meridianos |

Ahora vamos a definir a las siguientes líneas y círculos imaginarios terrestres.

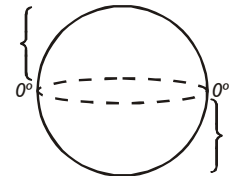
1. El eje terrestre

Es la línea imaginaria sobre la cual rota la Tierra. Sus extremos se llaman polos: Norte y Sur.



2. El Ecuador

Es un círculo máximo, perpendicular al eje terrestre, situado a igual distancia de los polos y que divide a la Tierra en dos hemisferios:



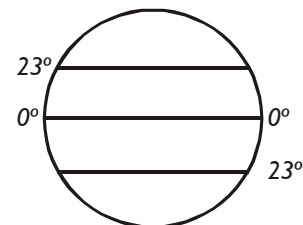
- 3 Norte, Boreal, Septentrional o Continental
- 3 Sur, Austral, Meridional o Marítimo

3. Los Paralelos

Son círculos menores paralelos al Ecuador, son innumerables, destacando por su importancia los siguientes:

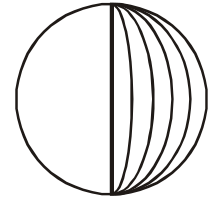
a. Los Trópicos:

b. Los Círculos Polares:



4. Los Meridianos

Son círculos máximos perpendiculares al Ecuador, el base o principal es el _____. Todos los meridianos se trazan de polo a polo y su mayor separación está en la línea ecuatorial.



ACTIVIDAD

Investiga y responde:

1. ¿Cuáles son los continentes y océanos atravesados por el Trópico de Cáncer?

2. ¿Cuáles son los continentes y océanos atravesados por el Trópico de Capricornio?

3. Menciona los continentes y océanos atravesados por el Meridiano de Greenwich.

Ahora, observa atentamente el siguiente mapamundi y deduce la ubicación del Perú en el mundo en relación a la Línea Ecuatorial y al meridiano de Greenwich.