



# FICHAS PARA IMPRIMIR

Recursos Educativos y Fichas para Imprimir y Descargar



INICIAL



PRIMARIA



SECUNDARIA



# El Continente Africano

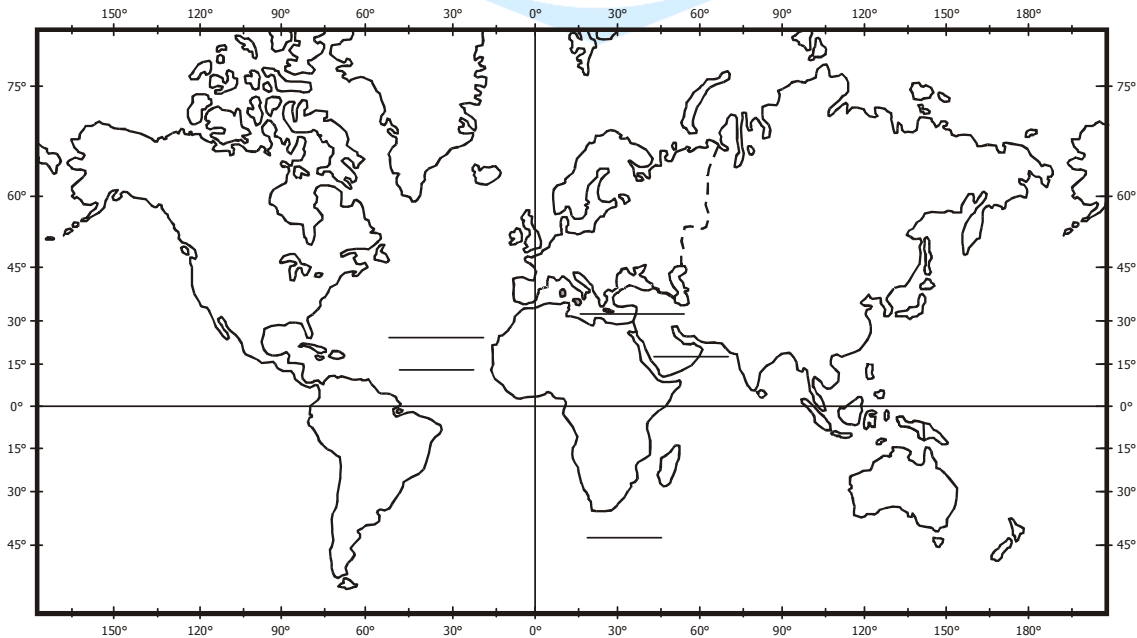
## 1. Origen del nombre

La palabra África deriva del vocablo AVRIGA, nombre de una antigua tribu berebere que habitaba la zona norte de ese continente. El nombre de África se generalizó a partir del siglo XVI debido a los viajes de descubrimiento.

## 2. Localización

Es el único continente que posee territorios en los cuatro hemisferios de la Tierra. El cruce del meridiano de Greenwich ( $0^{\circ}$ ) con la Línea Ecuatorial ( $0^{\circ}$ ) ocurre en el golfo de Guinea.

En el planisferio colorea el continente africano luego señala sus límites.

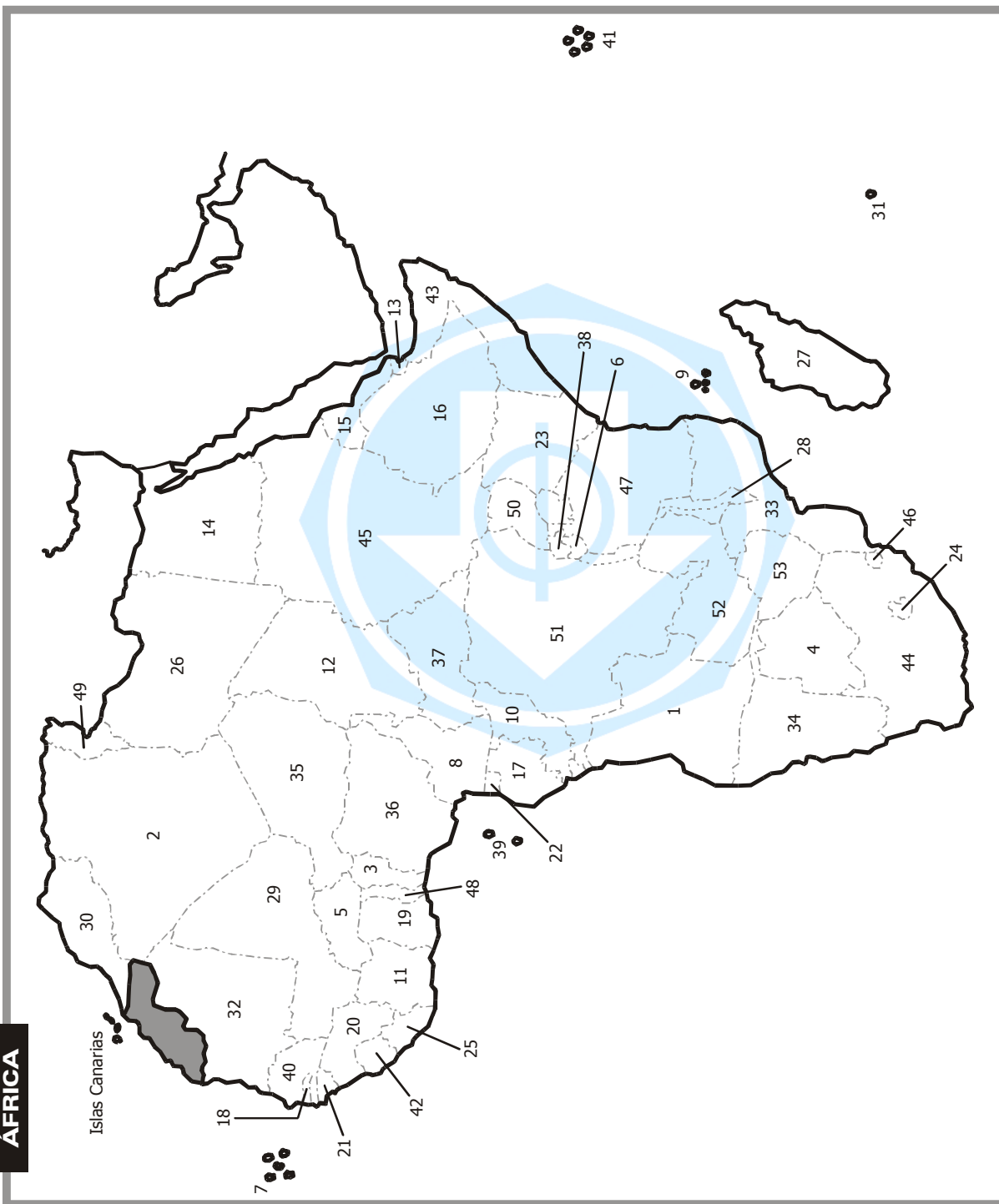


## 3. Límites:

- Por el norte : \_\_\_\_\_
- Por el este : \_\_\_\_\_
- Por el oeste : \_\_\_\_\_
- Por el sur : \_\_\_\_\_

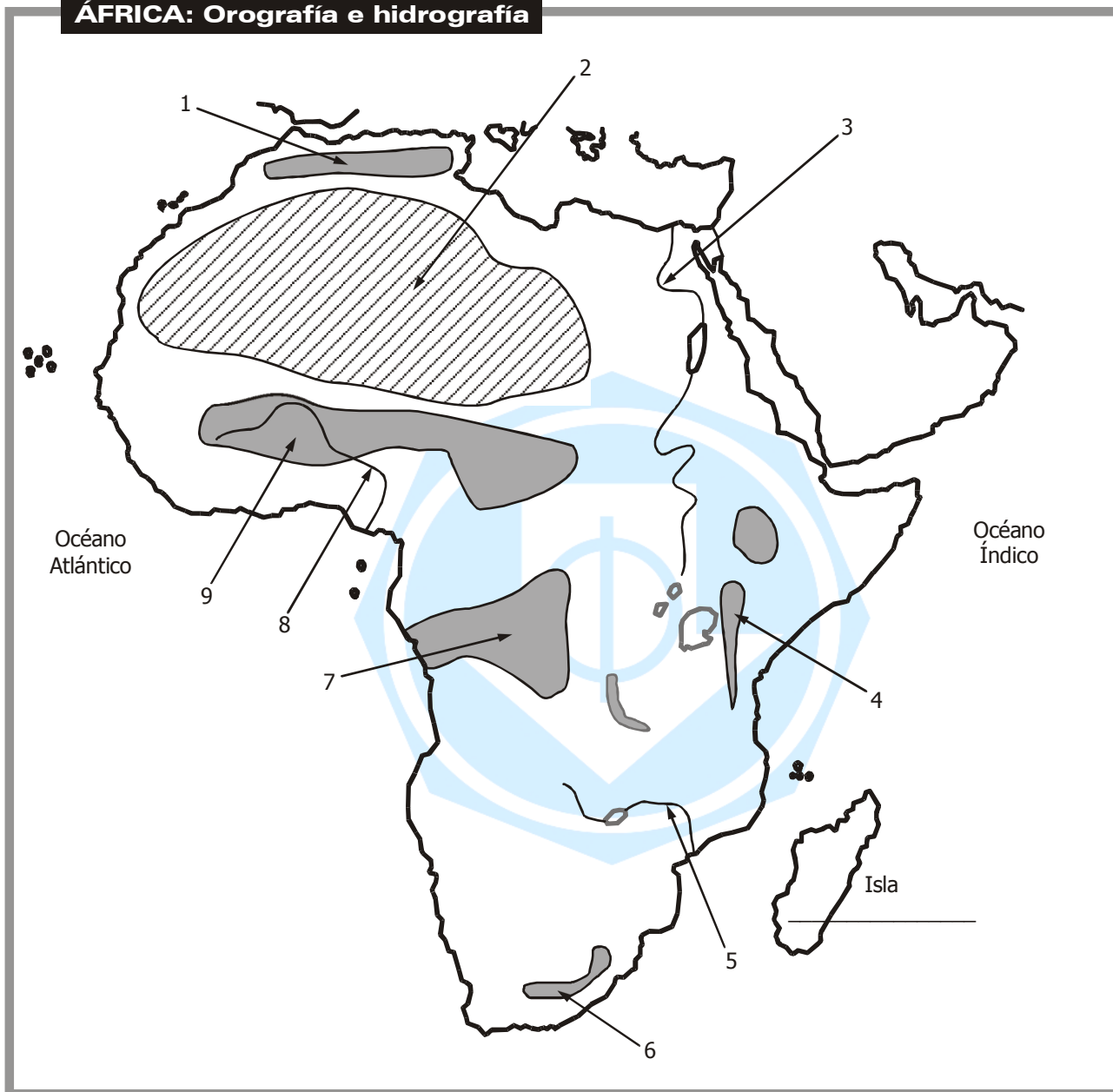
#### 4. División política

Completa el nombre de los países más grandes en el siguiente mapa de África.



DIVISION POLITICA	
1	_____
2	_____
3	Benin
4	Botswana
5	Burkina Faso
6	Burundi
7	Cabo Verde
8	Camerún
9	Comoras
10	Congo
11	Costa de Marfil
12	Chad
13	Djibouti
14	_____
15	Eritrea
16	Etiopia
17	Gabón
18	Gambia
19	Ghana
20	Guinea
21	Guinea Bissau
22	Guinea Ecuatorial
23	Kenia
24	Lesotho
25	Liberia
26	_____
27	Madagascar
28	Malawi
29	Mali
30	_____
31	Mauricio
32	Mauritania
33	Mozambique
34	Namibia
35	_____
36	Nigeria
37	Rep. Centro Africana
38	Rwanda
39	Santo Tome y Príncipe
40	Senegal
41	Seychelles
42	Sierra Leona
43	Somalia
44	Republica Sudafricana
45	_____
46	Swazilandia
47	Tanzania
48	Togo
49	Tunez
50	Uganda
51	_____
52	Zambia
53	Zimbabwe

**ÁFRICA: Orografía e hidrografía**



- 1. Cordillera Atlas .....
- 2. Desierto Sahara .....
- 3. Río Nilo .....
- 4. Montes Kilimanjaro .....
- 5. Río Zambese .....
- 6. Cordillera Dragones .....
- 7. Llanura del Congo .....
- 8. Río Niger .....
- 9. Sabana .....

ACTIVIDADES

1. Observa el mapa político de África y luego responde las siguientes preguntas:

a. ¿Cuáles son los 5 países más grandes de África?

---

---

b. ¿Qué países africanos son islas?

---

---

c. ¿Qué país se ubica muy cerca a España?

---

---

d. ¿Qué desierto es el más grande del mundo y queda en África?

---

---

2. Investiga tres animales oriundos de África y luego dibújalos o pega imágenes.