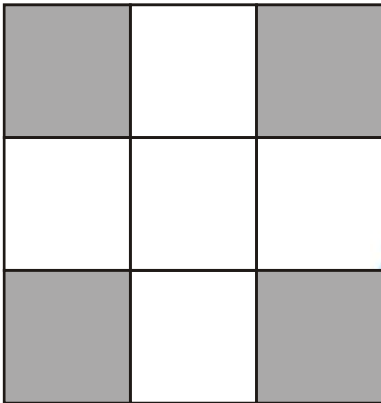




Clasificación de Fracciones

* Observa cada gráfico y completa:



¿Qué fracción representa la parte sombreada?

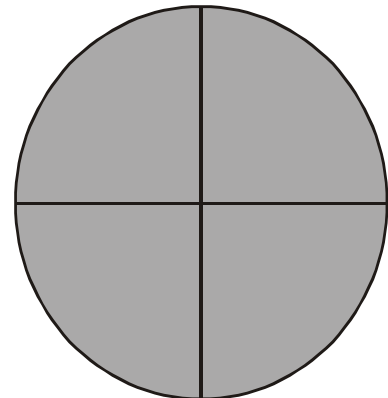
¿Qué relación se establece entre el numerador y el denominador?

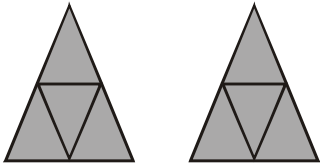
— → $N < D$ = Fracción Propia o menor que la unidad.

¿Qué fracción representa la parte sombreada?

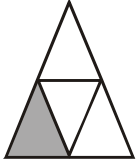
¿Qué relación se establece entre el numerador y el denominador?

— → $N = D$ = Fracción igual a la unidad.





¿Qué fracción representa la parte sombreada?



¿Qué relación se establece entre el numerador y el denominador?

— → $N > D$ = Fracción impropia o mayor que la unidad.

