



FICHAS PARA IMPRIMIR

Recursos Educativos y Fichas para Imprimir y Descargar



INICIAL



PRIMARIA



SECUNDARIA



MATEMÁTICA

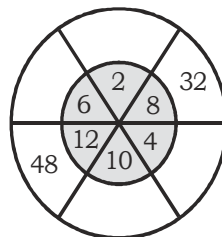
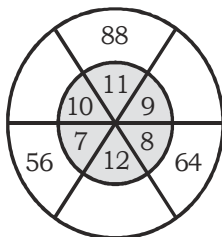
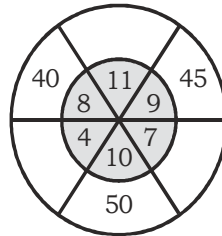
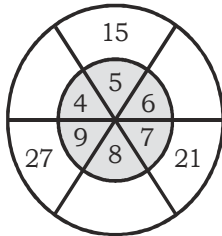
Ejercicios de Multiplicación

CUARTO DE PRIMARIA

1. Completa la tabla de multiplicar:


X ↘	1	2	3	4	5	6	7	8	9	10	11	12
1												
2			6									
3					15							
4												
5						30						
6												
7		14										
8									72			
9											99	
10				40								
11								88				
12	12											

2. Encuentra la relación de multiplicación que corresponde, luego completa.



Practiquemos la multiplicación

1. Resuelve las operaciones en tu cuaderno y colorea del mismo color los recuadros que contienen las operaciones y los que contienen su respectiva respuesta.



$1\ 425 \times 36 =$

186 354

$2\ 958 \times 63 =$

$2\ 387 \times 27 =$

$7\ 294 \times 39 =$

51 300

176 398

$7\ 259 \times 34 =$

589 248

$9\ 207 \times 64 =$

284 466

$3\ 529 \times 73 =$

246 806

$1\ 982 \times 89 =$

151 372

$3\ 692 \times 41 =$

64 449

257 617

REPASAMOS LO APRENDIDO

$$\begin{array}{r} 47\,380 + \\ 7\,840 \\ 6\,563 \\ \hline 12 \end{array}$$

$$\begin{array}{r} 900\,000 - \\ \hline 876\,721 \end{array}$$

$$\begin{array}{r} 87\,241 + \\ 62\,935 \\ 70\,211 \\ \hline 222 \end{array}$$

$$\begin{array}{r} 25\,248 - \\ \hline 11\,979 \end{array}$$

$$\begin{array}{r} 37\,461 + \\ 87\,243 \\ \hline 9\,896 \end{array}$$

$$\begin{array}{r} 63\,245 - \\ \hline 15\,893 \end{array}$$

$$\begin{array}{r} 7\,469 \times \\ \hline 79 \end{array}$$

$$\begin{array}{r} 23\,481 \times \\ \hline 65 \end{array}$$

$$\begin{array}{r} 74\,830 \times \\ \hline 58 \end{array}$$

$$76\,986 \underline{52}$$

$$88\,769 \underline{78}$$

$$97\,654 \underline{63}$$