



# FICHAS PARA IMPRIMIR

Recursos Educativos y Fichas para Imprimir y Descargar



INICIAL



PRIMARIA




SECUNDARIA



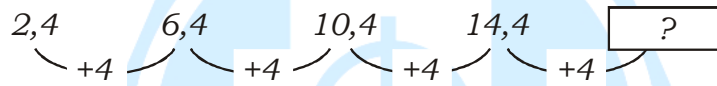
RAZ. MATEMATICO

TERCERO DE PRIMARIA

## Sucesiones con Numeros Decimales



Observamos los números y vemos que forman una sucesión creciente que empieza en 2,4.



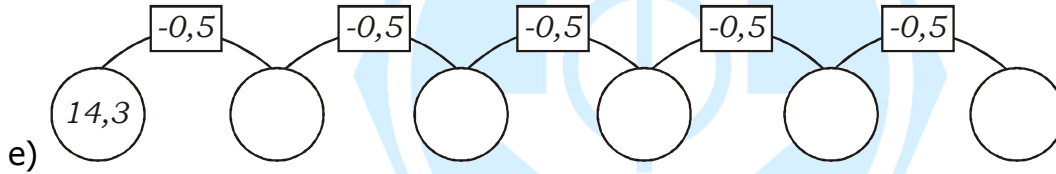

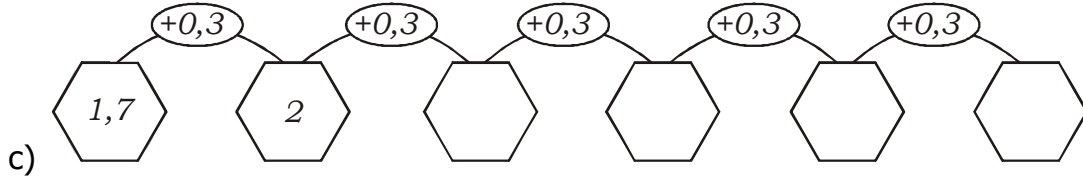

- Descubrimos la regla de formación:  
Sumar 4 a cada número.
- Hallamos el número que falta:  $14,4 + 4 = 18,4$   
El último carrito tiene el número \_\_\_\_\_



### Ahora hazlo tú:

1. Observa y completa las sucesiones numéricas.





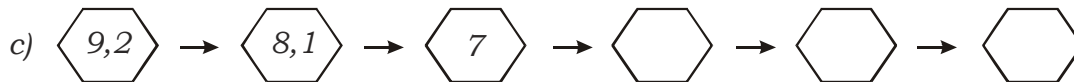
3. Descubre la regla de formación y continúa.



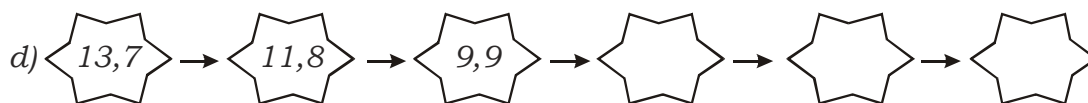
La regla de formación es \_\_\_\_\_.



La regla de formación es \_\_\_\_\_.



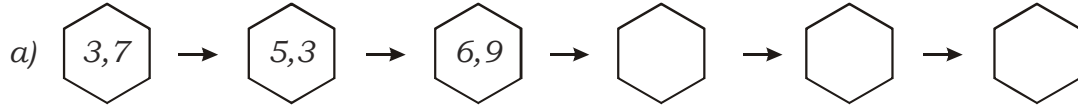
La regla de formación es \_\_\_\_\_.



La regla de formación es \_\_\_\_\_.

# ¿Cuánto aprendí?

1. Completo las siguientes sucesiones:



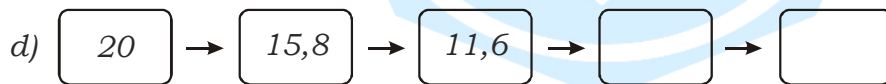
La regla de formación es \_\_\_\_\_.



La regla de formación es \_\_\_\_\_.



La regla de formación es \_\_\_\_\_.



La regla de formación es \_\_\_\_\_.

