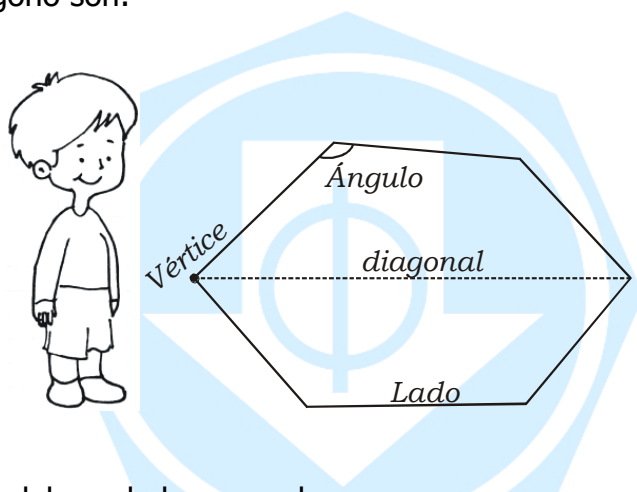


# Que son los Poligonos

Un polígono está formado por una línea \_\_\_\_\_; su interior es llamado polígono.  
 Los elementos del polígono son:



\* Completa con las palabras de los recuadros.

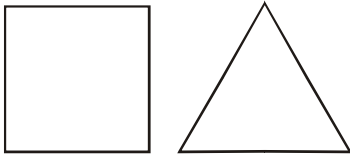
- vértice
- lado
- ángulo
- diagonal

- Segmentos que forman el polígono: \_\_\_\_\_.
- Son los puntos donde se unen los lados: \_\_\_\_\_.
- Tienen dos lados y un vértice en común: \_\_\_\_\_.
- Son segmentos que unen dos vértices no consecutivos: \_\_\_\_\_.

# Clasificamos polígonos

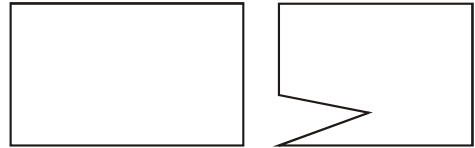
**Regulares:**

Son los que tienen sus \_\_\_\_\_ y \_\_\_\_\_ iguales.



**Irregulares:**

Son los que tienen sus \_\_\_\_\_ y \_\_\_\_\_ desiguales.



\* Coloca el número de lados que tiene cada polígono, luego une el nombre con la figura que corresponde. Utiliza diferentes colores.

- cuadrilátero ○
- pentágono ○
- hexágono ○
- octágono ○
- decágono ○
- heptágono ○
- eneágono ○
- triángulo ○

