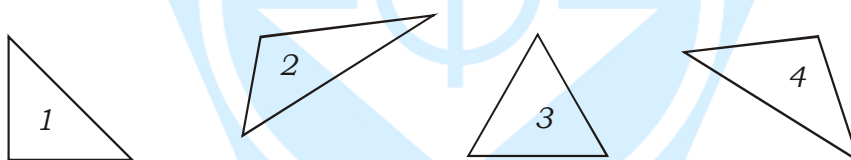


Que es un Triangulo

Son polígonos de tres lados, tres ángulos y tres vértices.


- | | | | | |
|--------------------------------|---|-----------------------|---|------------|
| Clasificación según sus lados. | → | Tres lados iguales | → | equilátero |
| | → | Dos lados iguales | → | isósceles |
| | → | Tres lados desiguales | → | escaleno |

* Mide los triángulos y marca con una "X" en las casillas correspondientes del cuadro.

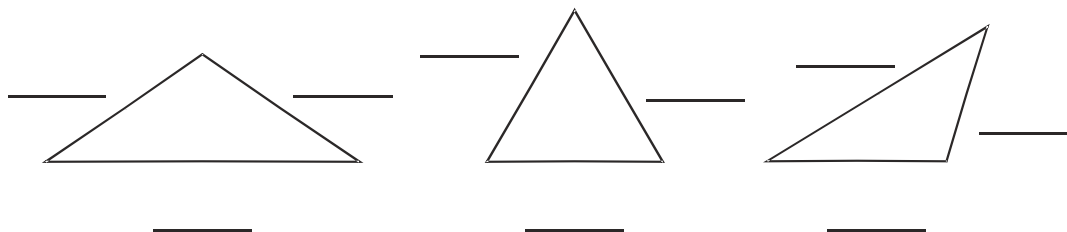


	Equilátero	Isósceles	Escaleno
Triángulo 1			
Triángulo 2			
Triángulo 3			
Triángulo 4			

Puedes ayudarte usando una regla.



* Mide los lados de cada triángulo y relaciona con una línea.



Triángulo equilátero

Triángulo isósceles

Triángulo escaleno