



FICHAS PARA IMPRIMIR

Recursos Educativos y Fichas para Imprimir y Descargar



INICIAL



PRIMARIA



SECUNDARIA



MATEMÁTICA

Pertenencia de Conjuntos

TERCERO DE PRIMARIA


1. Carlos representó los astros que investigará. Responde si o no entre los paréntesis.




Éstos son los dibujos de los astros que investigaré



P



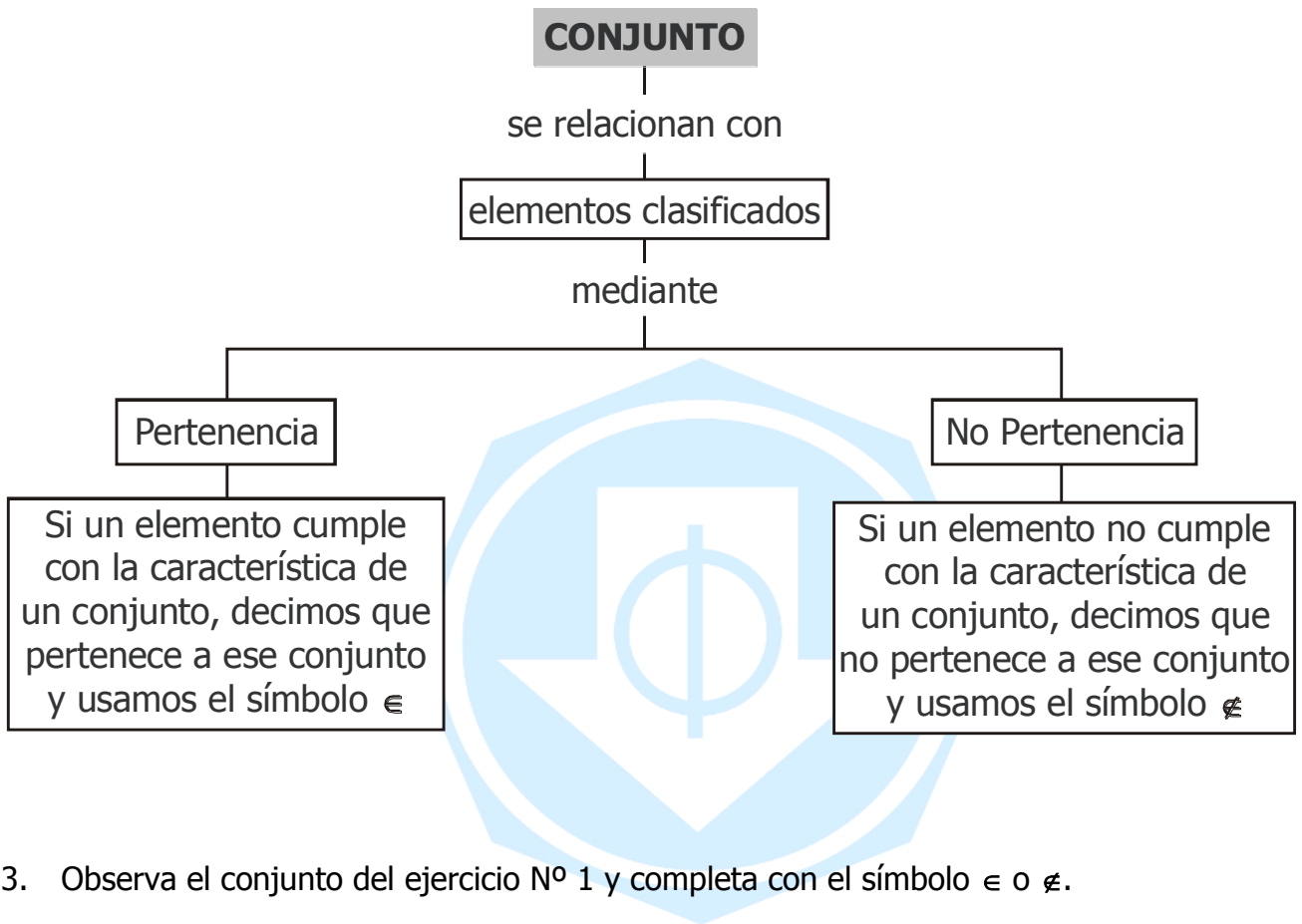
a)  pertenece a la investigación de Carlos. ()

b) Los animales pertenecen a la investigación de Carlos. ()

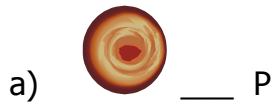
c)  pertenece a la investigación de Carlos. ()

d) Los extraterrestres pertenecen a la investigación de Carlos. ()

2. Observa y analiza el siguiente mapa:



3. Observa el conjunto del ejercicio N° 1 y completa con el símbolo \in o \notin .



4. Marca con una (x) el elemento que no guarda relación con los demás elementos de cada conjunto.

B = {Arroz, caramelo, chocolate}

D = {Pollo, cebolla, lapicero}

E = {Loro, paloma, gato, gallina}

U = {Aguja, hilo, zapato, tijera}

5. Escribe tres elementos que pertenecen a los siguientes conjuntos.

H = {Prendas de vestir}

O = {Elementos de un botiquín escolar}

R = {Animales vertebrados}

Q = {Frutas cítricas}
