



FICHAS PARA IMPRIMIR

Recursos Educativos y Fichas para Imprimir y Descargar



INICIAL



PRIMARIA



SECUNDARIA



RAZ. MATEMATICO

TERCERO DE PRIMARIA

Estimacion de Medidas de Longitud

¡DANDO UN PASEO!

Para llegar al campamento nos falta recorrer _____ metros.

Para llegar a la playa me falta recorrer _____ metros.

Del grifo al campamento hay _____ m.

Del campamento a la playa hay _____ m.

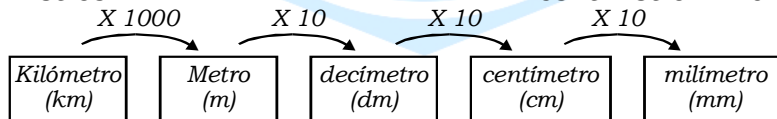
No te olvides que:

1 kilómetro = 1000 metros

1 metro = 10 decímetros

1 decímetro = 10 centímetros

1 centímetro = 10 milímetros,



Ahora hazlo tú:

1. A simple vista, sin medir, marca con una "X" el casillero de la longitud que te parezca más adecuada, luego verifica usando una regla.

<input type="checkbox"/>	<input type="checkbox"/>	<input type="checkbox"/>	<input type="checkbox"/>	<input type="checkbox"/>	<input type="checkbox"/>
2cm	3cm	4cm	5cm	8cm	5cm

2. Observa y colorea la medida que te parece más adecuada.

Ancho de un cuarto	Largo de un escritorio	Largo de una plancha
<input type="checkbox"/> 3m	<input type="checkbox"/> 30cm	<input type="checkbox"/> 10cm
<input type="checkbox"/> 10dm	<input type="checkbox"/> 25mm	<input type="checkbox"/> 25cm

3. Expresa en centímetros las medidas de estos animales.



La jirafa mide de alto 4m y 8cm

$$400\text{cm} + 8\text{ cm} = 408\text{ cm}$$

El oso mide de alto _____

$$\text{___ cm} + \text{___ cm} = \text{___ cm}$$

La avestruz mide de alto _____

$$\text{___ cm} + \text{___ cm} = \text{___ cm}$$

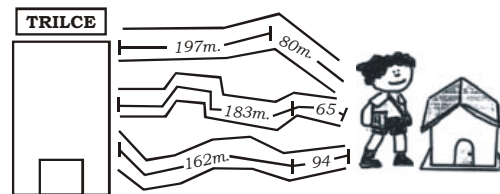
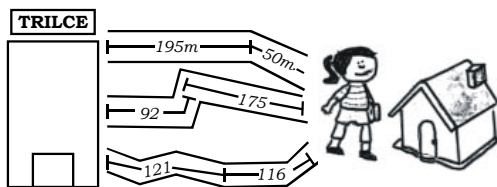
El león mide de largo _____

$$\text{___ cm} + \text{___ cm} = \text{___ cm}$$

4. Completa el cuadro.

Yo mido _____ cm	Mamá mide _____ cm	Papá mide _____ cm
------------------	--------------------	--------------------

5. Averigua la distancia más corta que Omar y Mary utilizaron para ir del colegio a su casa. Colorea el camino correspondiente.



a) $195 + 50 = 245$ metros

a) $197 + 80 = 277$ metros

b) _____ + _____ = _____ metros

b) _____ + _____ = _____ metros

c) _____ + _____ = _____ metros

c) _____ + _____ = _____ metros

Retos para el hogar

1. Escribe qué unidad de medida utilizarías para medir cada objeto: milímetro, centímetro o metro.



2. Averigua la estatura de cada niño en centímetros.

Yo mido 20 cm más que Alejandra.



Gerson

Yo mido 1m y veinte cm.



Alejandra

Yo mido 12 cm menos que Gerson



Rosita

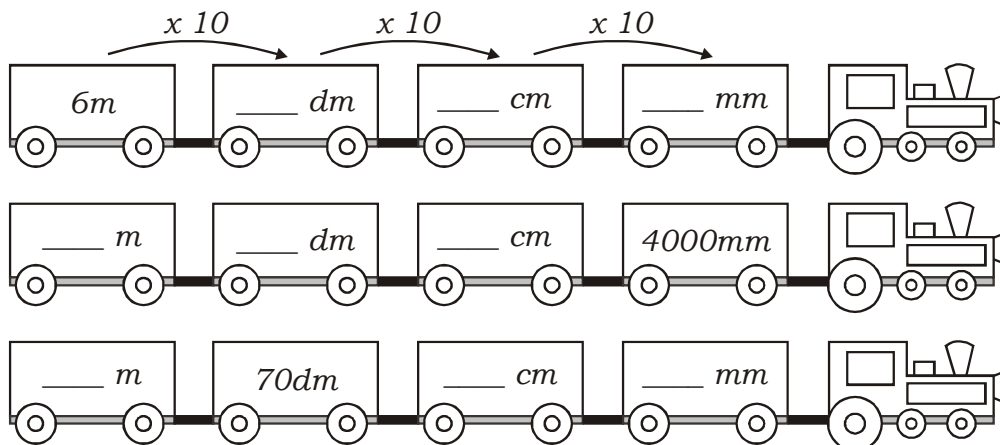
Yo mido la mitad de lo que mide Gerson más 60cm.



Alvaro

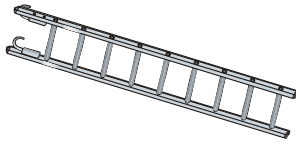
Gerson _____ cm. Alejandra _____ cm. Rosita _____ cm. Alvaro _____ cm.

3. Completa los espacios de modo que en cada trencito todos sus vagones indiquen la misma cantidad de alambre, expresada en diferentes unidades.

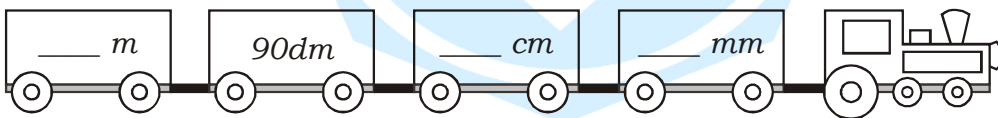
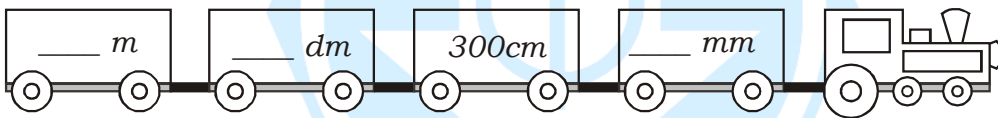


¡Mis logros!

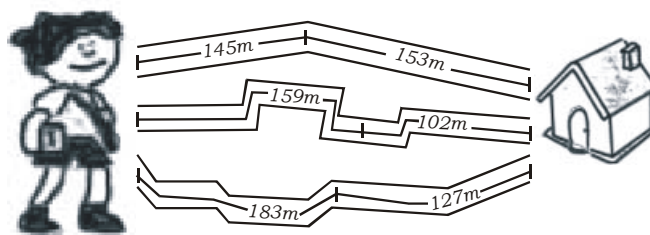
1. Escribo qué unidad de medida utilizo para medir cada objeto: milímetro, centímetros o metros.



2. Completo los espacios de modo que en cada trencito todos sus vagones indiquen la misma longitud, expresada en diferentes unidades.



3. Calculo la distancia más corta.



a) $\underline{\quad} + \underline{\quad} = \underline{\quad}$ metros

b) $\underline{\quad} + \underline{\quad} = \underline{\quad}$ metros

c) $\underline{\quad} + \underline{\quad} = \underline{\quad}$ metros