



FICHAS PARA IMPRIMIR

Recursos Educativos y Fichas para Imprimir y Descargar



INICIAL



PRIMARIA



SECUNDARIA



RAZ. MATEMATICO

TERCERO DE PRIMARIA

El Tiempo

Yo llegué a las 8:25



Oscar

Yo llegué 5 minutos antes que Oscar



Alicia

Yo llegué 12 minutos después que Alicia.



Felipe

¿Quién llegó más temprano?

- Alicia llegó 05 minutos antes que Oscar: $8:25 - 05 = 8:20$
Alicia llegó a las 8 horas 20 minutos.
- Felipe llegó 12 minutos después que Alicia: $8:20 + 12 = 8:32$
Felipe llegó a las 8 horas 32 minutos.



_____ llegó más temprano.

Ahora hazlo tú:

1. Dibuja las agujas de cada reloj y escribe las respuesta:

- a) La película empezó a las 8 p.m. y terminó a las 10 p.m. ¿Cuánto duró la película?


- b) La clase empezó a las 9 horas y media y terminó a las 10 horas y 15 minutos. ¿Cuánto tiempo duró la clase?



La película duró _____ horas






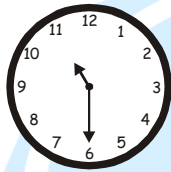


La clase duró _____ minutos

c) Dibuja las agujas que corresponden en cada reloj.



Practicando


1. Escribe la hora que indica cada reloj.


 :

 :

 :

 :

 :

 :

 :

 :

2. Completa: ¿cuánto tiempo te demoras para...?

Actividades	Tiempo
<i>dormir</i>	_____
<i>almorzar</i>	_____
<i>bañarte</i>	_____
<i>llegar al colegio</i>	_____
<i>hacer tus tareas</i>	_____
<i>ver televisión</i>	_____
<i>arreglar tu dormitorio</i>	_____
<i>escuchar música</i>	_____

3. Observa y responde:



Me voy a Chiclayo el segundo sábado de julio y volveré el primer jueves de agosto.

JULIO						
L	M	M	J	V	S	D
1	2	3	4	5	6	7
8	9	10	11	12	13	14
15	16	17	18	19	20	21
22	23	24	25	26	27	28
29	30	31				

AGOSTO						
L	M	M	J	V	S	D
		1	2	3	4	5
6	7	8	9	10	11	12
13	14	15	16	17	18	19
20	21	22	23	24	25	26
27	28	29	30			

¿Qué día viaja? _____

¿Qué día volverá? _____

¿Cuántos días estará en Chiclayo?

Si hubiera regresado de Chiclayo 2 días después del segundo viernes de agosto, ¿cuántos días más se hubiera demorado?




4. Resuelve:

a) Roberto salió a jugar a las 6:05 de la mañana. Claudia salió 25 minutos después y Jorge 20 minutos antes que Roberto. ¿A qué hora salieron Jorge y Claudia a jugar?

b) En una tienda de telas. El lunes se vendieron 42 metros; el martes 4 metros menos que el lunes y el miércoles la mitad de lo que se vendió el lunes. ¿Cuánto vendieron en total los tres días?

Retos para el hogar

1. Escribe la hora que marca cada reloj.


 :

 :

 :

2. Relaciona:

Mes que puede tener 28 ó 29 días

15 minutos

Número de minutos en un cuarto de hora.

1 año.

Es el cuarto mes con 31 días.

30 minutos.

Número de minutos en media hora.

Julio.

Unidad de tiempo de 365 días.

Febrero.

3. Anita se va a Cajamarca el 2do domingo de junio y volverá el segundo lunes de julio.

JUNIO						
D	L	M	M	J	V	S
1	2	3	4	5	6	7
8	9	10	11	12	13	14
15	16	17	18	19	20	21
22	23	24	25	26	27	28

a) ¿Qué día viaja Anita?

JULIO						
D	L	M	M	J	V	S
29	30	1	2	3	4	5
6	7	8	9	10	11	12
13	14	15	16	17	18	19
20	21	22	23	24	25	26
27	28	29	30	31		

b) ¿Qué día volverá?

4. Resuelve.

a) 2 horas = _____ minutos.

b) 2 décadas = _____ años.

c) 180 minutos = _____ horas.

d) 800 años = _____ siglos.

e) 10 años = _____ lustro.