



# FICHAS PARA IMPRIMIR

Recursos Educativos y Fichas para Imprimir y Descargar



INICIAL



PRIMARIA



SECUNDARIA



MATEMÁTICA

SEGUNDO DE PRIMARIA

## Sistema Monetario

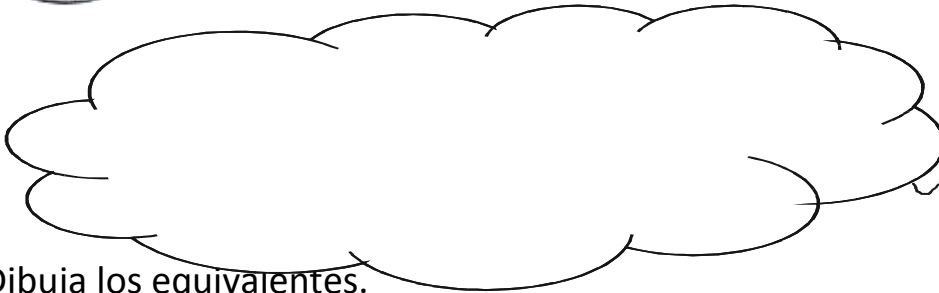


Ejemplo:

Yo, tu amiga vicuñita estoy en todas las monedas del Perú. ¿Recuerdas cuando tus parientes te dan propina? ¡Vamos a ver!



es equivalente a:




monedas de 10 céntimos

1. Dibuja los equivalentes.

A)



es equivalente a:



monedas de 10 céntimos

B) es equivalente a:




monedas de  
50 céntimos



monedas de  
20 céntimos

C) es equivalente a:



monedas de  
1 nuevo sol.

y

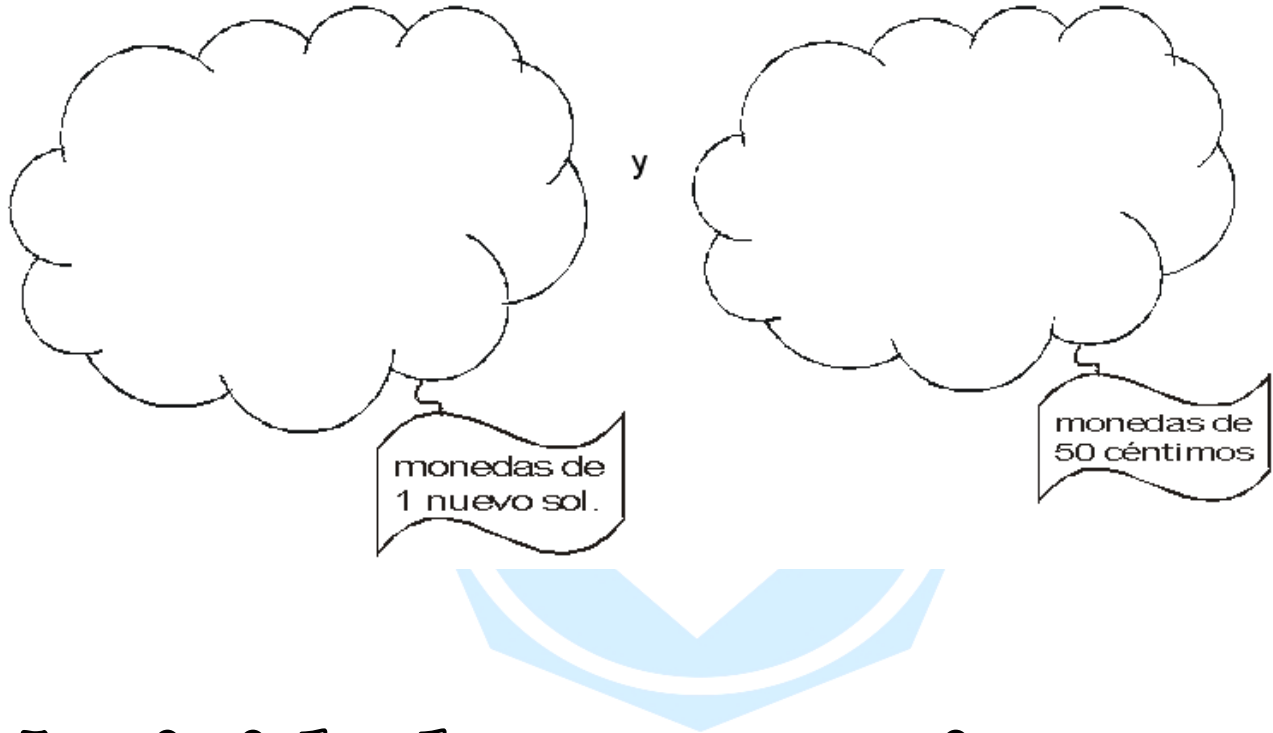


monedas de  
50 céntimos

D)



es equivalente a:








# Actividades para casita

1. Busca dos equivalentes para 20 nuevos soles y 50 nuevos soles. Puedes usar billetes de lámina. Recuerda, pega la tarea en el cuaderno.

# Sigue practicando

1. Completa el cuadro

Artículo	Precio por unidad	Precio por 2 artículos	Precio por 3 artículos	Precio por 4 artículos	Precio por 5 artículos
	30 céntimos				
	10 céntimos				
	50 céntimos				
	3 soles				
	2 soles				

2. Completo el ticket de cada compra viendo el cuadro anterior.

<p>2 helados ▶ _____</p> <p>4 cajitas de chicle ▶ _____</p> <p>5 caramelos ▶ _____</p> <hr/> <p>Importe total ▶ _____</p> <p>Pago con ▶ 10 soles</p> <p>Mi vuelto ▶ _____</p>	<p>5 cajitas de fósforo ▶ _____</p> <p>3 jugos ▶ _____</p> <p>1 helado ▶ _____</p> <hr/> <p>Importe total ▶ _____</p> <p>Pago con ▶ 15 soles</p> <p>Mi vuelto ▶ _____</p>
<p>4 caramelos ▶ _____</p> <p>3 cajitas de chicle ▶ _____</p> <p>5 jugos ▶ _____</p> <hr/> <p>Importe total ▶ _____</p> <p>Pago con ▶ 12 soles</p> <p>Mi vuelto ▶ _____</p>	<p>4 cajitas de fósforo ▶ _____</p> <p>3 cajitas de chicle ▶ _____</p> <p>5 helados ▶ _____</p> <hr/> <p>Importe total ▶ _____</p> <p>Pago con ▶ 20 soles</p> <p>Mi vuelto ▶ _____</p>

# Problemitas con monedas y billetes



Lee varias veces el problema.

Comprende lo que ellos te dicen.

Y algo muy importante. ¡No intentes adivinar!

1. José tiene S/. 15, Santiago tiene S/. 15 y Alex también tiene S/. 15. Los tres amigos se han unido para donar este dinero a los discapacitados, ¿cuánto dinero donaron los tres amigos?

Operación	Respuesta

2. Mi hermano y yo fuimos al cine. Pagamos S/. 7 de entrada cada uno, gastamos S/. 5 en refrescos; yo compré S/. 4 de dulces y él, S/. 3. ¿Cuánto gastamos entre los dos?

Operación	Respuesta

3. Un equipo de sonido cuesta, al contado S/. 600; pero si se paga a plazos, hay que pagar S/. 74 más de interés. ¿En cuánto se comprará, si se paga a plazos?

Operación	Respuesta

4. Gerson tiene S/. 103, Niza S/. 50 más que Gerson y Allison S/. 21 menos que Niza. ¿Cuánto dinero tienen los tres juntos?

Operación	Respuesta



**¡Disfruta con los números!**

