



INICIAL



PRIMARIA




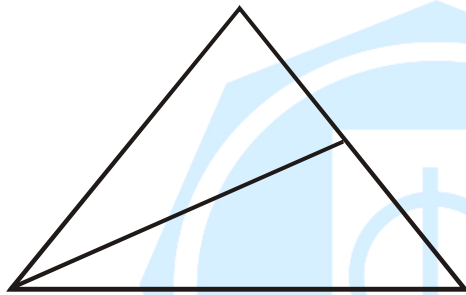
SECUNDARIA



Poblemas de Conteo de Figuras

* Encierra en un círculo la alternativa correcta.

1. ¿Cuántos  observas en . . . ?




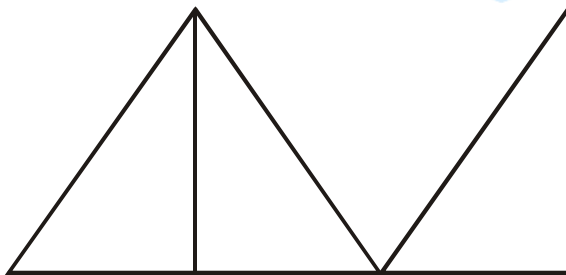
a) 1

b) 2

c) 3

d) 4

2. ¿Cuántos  observas en . . . ?




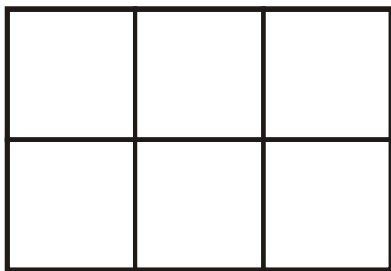
a) 1

b) 2

c) 3

d) 4

3. ¿Cuántos  observas en . . . ?




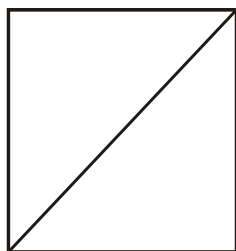
a) 8

b) 15


c) 4


d) 6

4. ¿Cuántos  observas en . . . ?




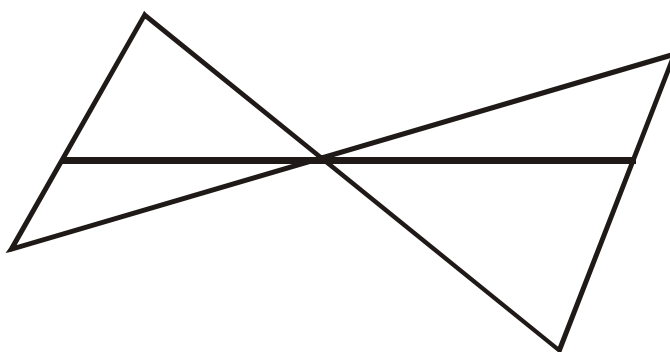
- a) 1 b) 2 c) 3 d) 4

5. ¿Cuántos  observas en . . . ?




- a) 8 b) 9 c) 5 d) 6

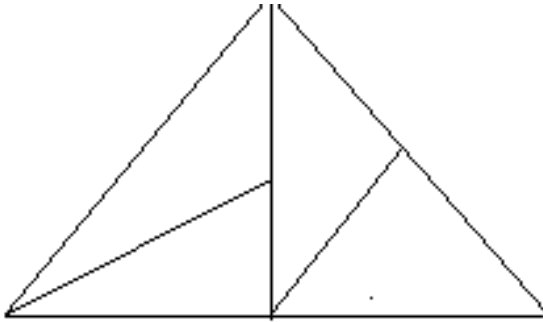
6. ¿Cuántos  observas en . . . ?




- a) 4 b) 5 c) 6 d) 7

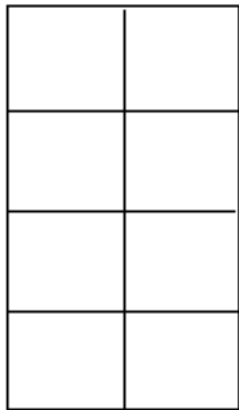


7. ¿Cuántos  observas en ... ?




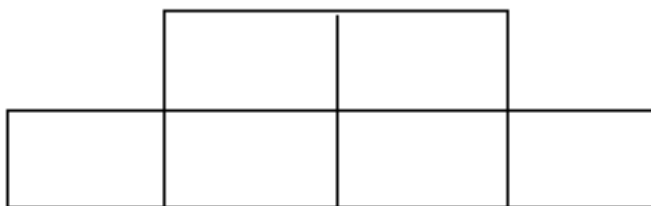
- a) 4 b) 5 c) 6 d) 7

8. ¿Cuántos  observas en ... ?



- a) 8 b) 11 c) 12 d) 19

9. ¿Cuántos  observas en ... ?

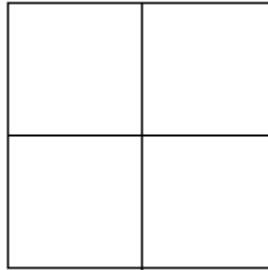


- a) 11 b) 16 c) 14 d) 15

Actividad para casita

* Encierra en un círculo la alternativa correcta.

1. En la figura, ¿cuántos cuadrados hay?




- a) 2 b) 4 c) 5 d) 26

2. En la figura, ¿cuántos rectángulos hay?



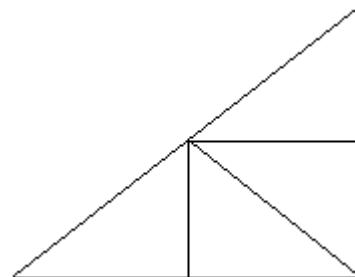
- a) 5 b) 6 c) 7 d) 10

3. En la figura, ¿cuántos rectángulos hay?



- a) 1 b) 3 c) 5 d) 6

4. En la figura, ¿cuántos triángulos hay?



- a) 4 b) 5 c) 6 d) 7