



FICHAS PARA IMPRIMIR

Recursos Educativos y Fichas para Imprimir y Descargar



INICIAL



PRIMARIA



SECUNDARIA



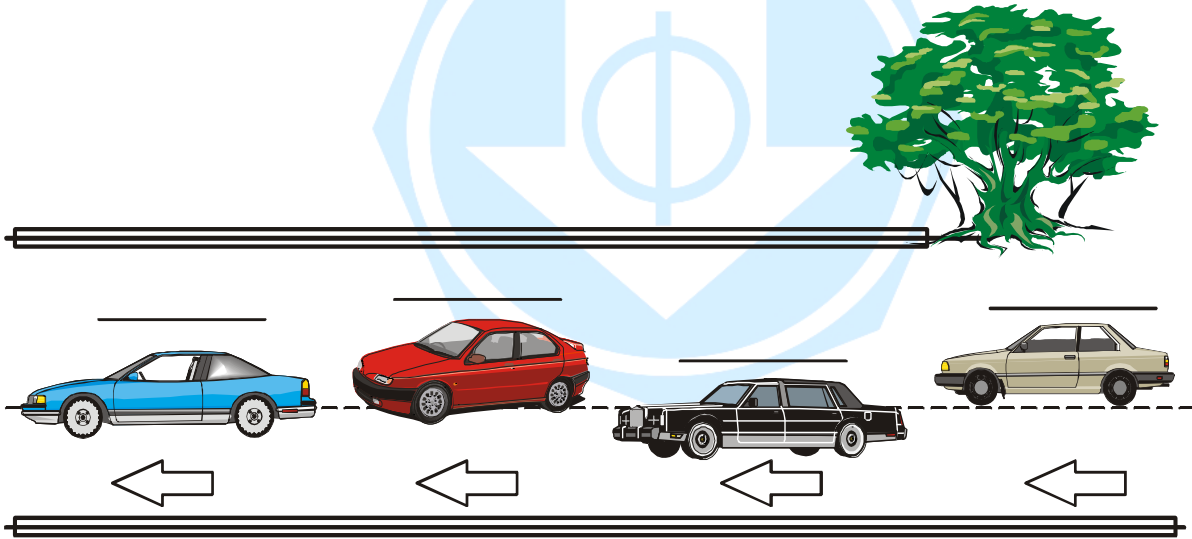
RAZ. MATEMATICO

SEGUNDO DE PRIMARIA

Ordenando Datos

1. Lee atentamente.


El auto de Manuel está al final de la fila. El auto de Esteban está dos autos más adelante que el de Manuel. Si Pedro se estacionó primero, ¿cuál es el auto de Luis?




R : _____

2. Colorea los círculos, sigue el orden que se indica.


La profesora ordenó los grupos así: El color amarillo abrirá el desfile y el color azul lo cerrará. Si el verde está más próximo al azul, ¿en qué lugar le tocó al rojo?




1°



2°




3°



4°

R : _____

3. En un edificio de 5 pisos, María vive en el último piso. Paula vive 3 pisos más abajo que María. Ana vive sobre el piso de Paula y Alejandra en el piso más bajo. ¿En qué piso vive Sandra?



R : _____

4. Ahora inventa un ejercicio y resuélvelo.
