



INICIAL



PRIMARIA



SECUNDARIA

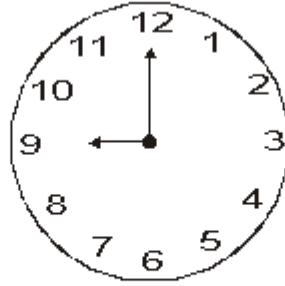


Medidas de Tiempo

1. Escribe la hora que marca el reloj.



_____ en punto




_____ en punto



_____ en punto


2. Dibuja la manecilla corta para que cada reloj marque la hora escrita.



2 en punto



7 en punto

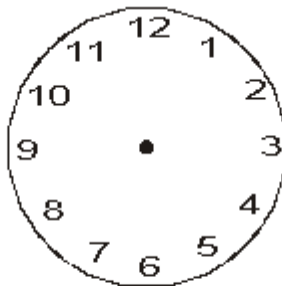


11 en punto

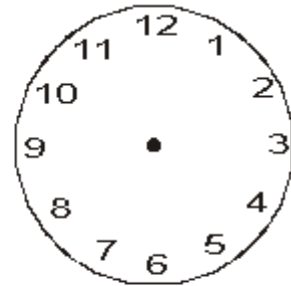
3. Dibuja las manecillas para que cada pareja de relojes marque la misma hora.



3 : 45



10 : 25



6 : 15

Problemas sobre tiempo



Observa y completa antes de resolver los problemas. ¡Sigue adelante!

$$1\text{h} = 60 \text{ min.}$$

$$1\text{h } 30 \text{ min} = \underline{\hspace{2cm}} \text{ min.}$$

$$1\text{h } 10 \text{ min} = \underline{\hspace{2cm}} \text{ min.}$$

$$1\text{h } 40 \text{ min} = \underline{\hspace{2cm}} \text{ min.}$$

$$1\text{h } 15 \text{ min} = \underline{\hspace{2cm}} \text{ min.}$$


$$2\text{h } 05 \text{ min.} = \underline{\hspace{2cm}} \text{ min.}$$

1. Hilda viaja de Ica a Pisco, parte a las 8h 10 min. Si el viaje dura 50 minutos, ¿a qué hora llega?



Rpta. = _____

2. Empiezas un trabajo a las 10h 30 min, ¿a qué hora terminas si has empleado 40 minutos en realizarlo?





Rpta. = _____



Leo la hora que marca el reloj





1. Miro los relojes y completo


 Horas: 12  12:25
 Minutos: 25



Leo: _____


 Horas: ____  ____ : ____
 Minutos: ____



Leo: Siete y cuarenta y cinco


 Horas: ____  ____ : ____
 Minutos: ____



Leo: _____


 Horas: ____  ____ : ____
 Minutos: ____

Leo: _____


 Horas: ____  ____ : ____
 Minutos: ____

Leo: _____


 Horas: ____  ____ : ____
 Minutos: ____

Leo: _____

2. Completa:

Un cuarto de hora tiene 15 minutos.

Media hora tiene ___ minutos.

Tres cuartos de hora tienen ___ minutos.



Son las _____

1 hora y media tiene ___ minutos.

2 horas tienen ___ minutos.

3 horas tienen ___ minutos.



Son las _____