




Medidas de Masa

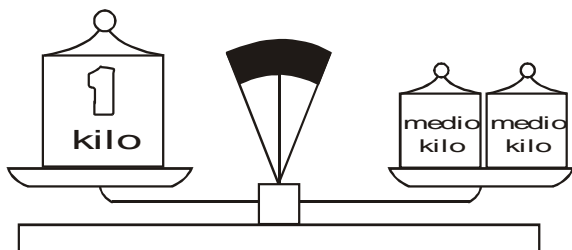


Responde:

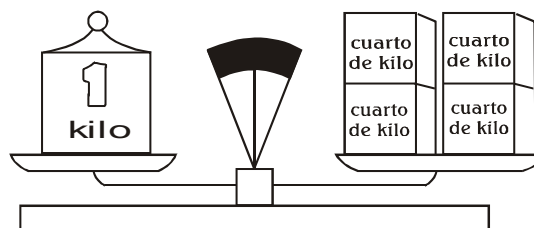
¿Por qué el hipopótamo y el conejo no pueden balancearse?

Rpta: _____

¡Recuerda!:



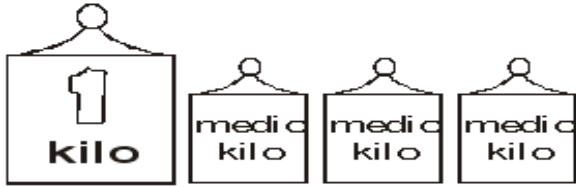
1 kilo equivale a 2 medios kilos.



1 kilo equivale a 4 cuartos de kilo.

¡Ahora, hazlo tú!

1. Responde, ¿qué cantidad hay?



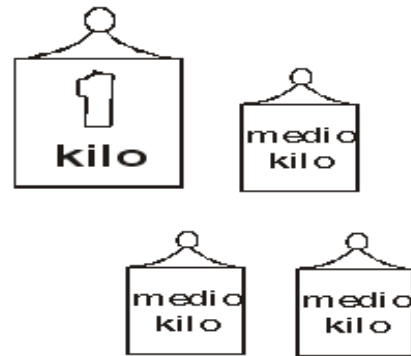
Hay: _____



Hay: _____



Hay: _____



Hay: _____



Hay: _____



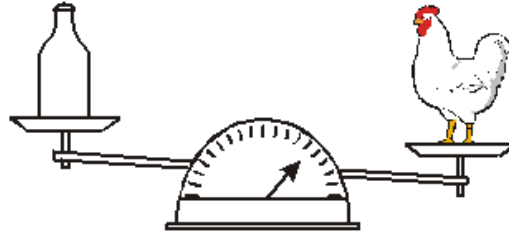
Hay: _____



Todos los cuerpos tienen peso...

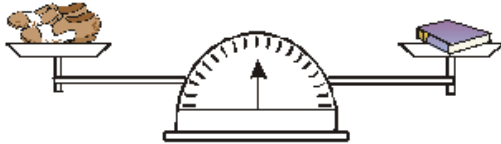
1. Observo la balanza y completo con la palabra más, menos o igual.



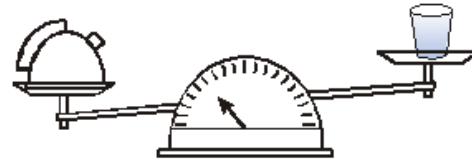
La  tiene _____ peso que la .





La  tiene _____ peso que el .




Los  tienen _____ peso que el .

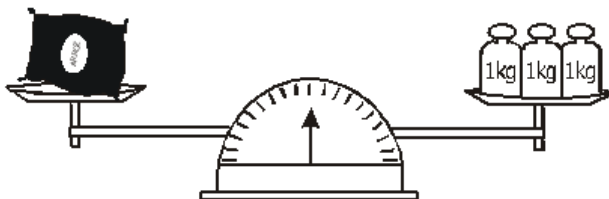


El  tiene _____ peso que la .

2. Observo la balanza y escribo el peso de cada objeto.




Peso de la gallina = _____ kg



Peso de la saco de arroz = _____ kg


3. Observo la balanza y escribo el peso de cada objeto.



peso = _____ kg



peso = _____ kg



peso = _____ kg

Problemitas

Recuerda los pasos para resolver los problemas.

1. Rosa tiene 68 kg de masa y Juan 85 kg, ¿cuánta masa tienen entre los dos?

Operación	Respuesta

2. Ana tiene 132 kg de pescado y vende 97 kg. ¿Cuántos kilogramos de pescado le quedan?

Operación	Respuesta

3. Un carnicero tiene 240 kg de carne y vende 178 kg. ¿Cuántos kilogramos de carne le quedan?



Operación	Respuesta

4. Un agricultor transporta en un triciclo 85 kg de papa, 57 kg de verduras y 93 kg de frutas. ¿Cuántos kilogramos de carga lleva?

Operación	Respuesta

