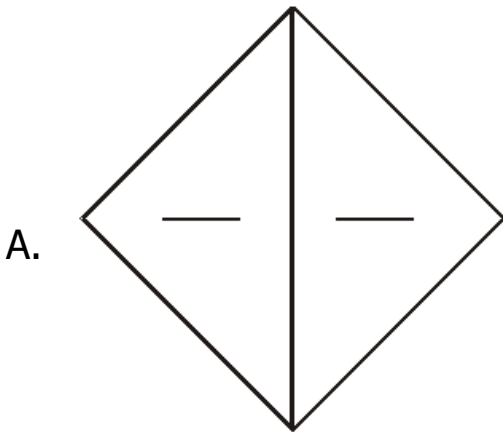




Lectura y Representación de Fracciones

1. Colorea una de las partes de cada todo y luego completa.

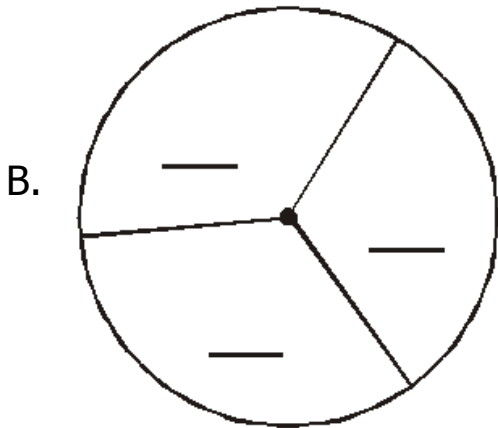


Está dividido en 2 partes iguales.

Cada parte se llama: _____

Se escribe

ó




Está dividido en ____ partes iguales.

Cada parte se llama: _____

Se escribe

ó



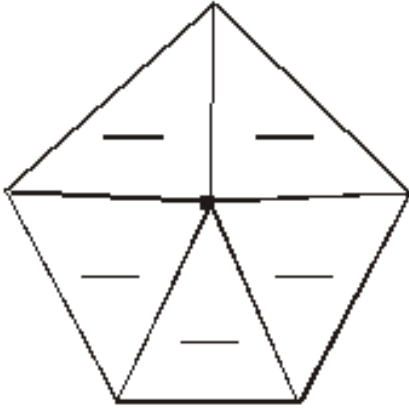
Está dividido en ____ partes iguales.

Cada parte se llama: _____

Se escribe

ó

D.



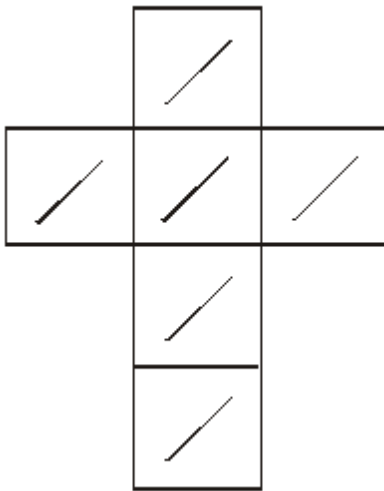
Está dividido en ____ partes iguales.

Cada parte se llama: _____

Se escribe

ó

E.




Está dividido en ____ partes iguales.

Cada parte se llama: _____

Se escribe

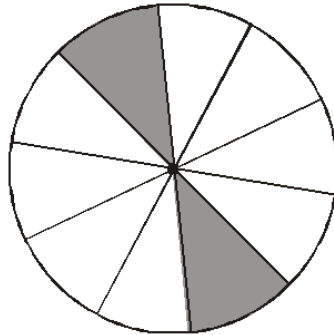
ó



¡A leer fracciones!

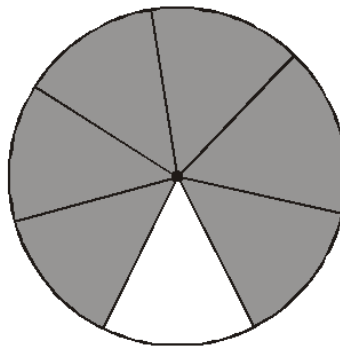
1. Une la fracción con su respectivo gráfico y escribe cómo se lee.

$$\frac{6}{7}$$



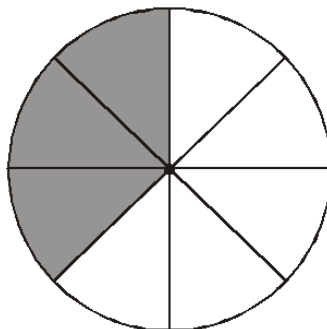
Se lee:

$$\frac{3}{8}$$



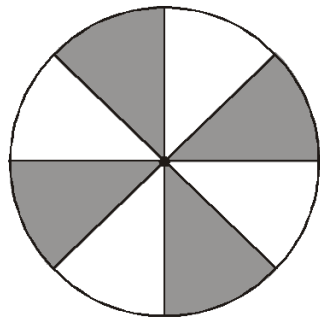
Se lee:

$$\frac{2}{10}$$



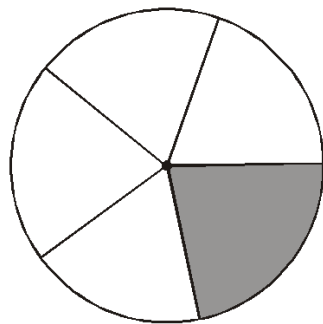
Se lee:

$$\frac{1}{5}$$



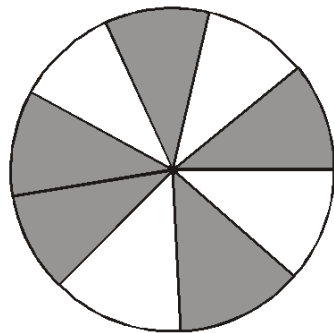
Se lee:

$$\frac{5}{9}$$



Se lee:

$$\frac{4}{8}$$



Se lee:
