





Series Ascendentes y Descendentes

A subir y bajar escaleras.

1. Ayuda a los animalitos a subir las escaleras, contando y escribiendo desde el número dado.


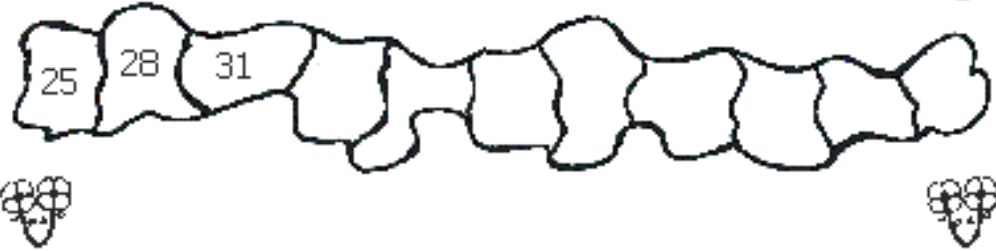
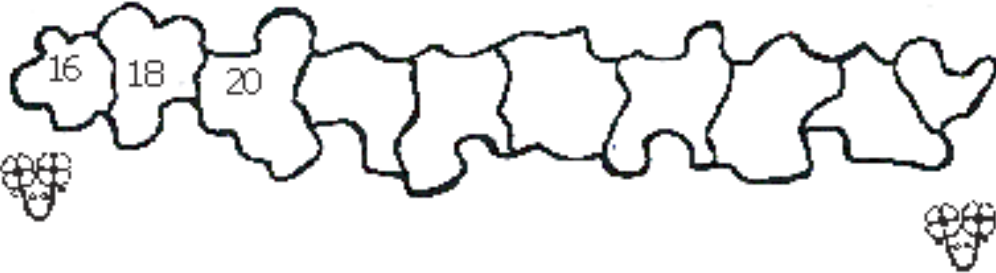
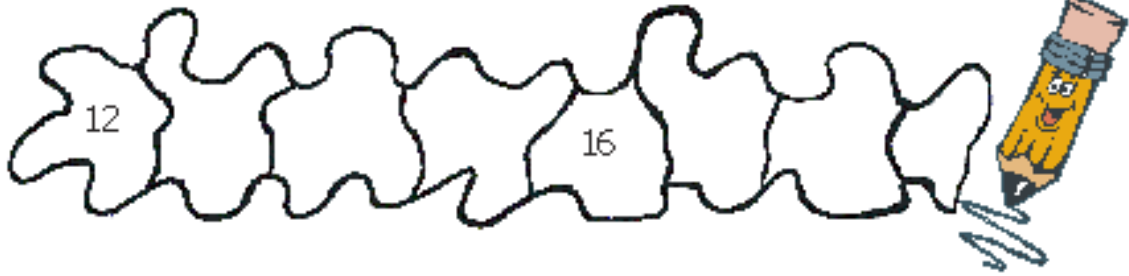


2. Ayuda a los animalitos a bajar las escaleras, contando y escribiendo desde el número dado.



Contamos y escribimos números

* Completa la serie de números.



De mayor a menor, de menor a mayor

1. Ordena los números de forma ascendente o descendente, según se indique.

* Ascendente:

21 - 31 - 11 - 71 - 61 - 51 - 20

() () () () () () ()



* Descendente:

44 - 74 - 86 - 68 - 47 - 91 - 19

() () () () () () ()

* Descendente:

53 - 43 - 33 - 83 - 13 - 73 - 93

() () () () () () ()

* Ascendente:

25 - 46 - 68 - 52 - 30 - 18 - 67

() () () () () () ()

* Descendente:

99 - 19 - 66 - 64 - 70 - 63 - 60

() () () () () () ()

Me gusta practicar

* Luis está preocupado porque necesita ayuda para llenar este cuadro. Tú puedes: ¡ayúdalo!



24	$2D + 4U$	$20 + 4$	veinticuatro
16			
	$2D + 8U$		
			treinta y dos
		$30 + 4$	
45			
			veintiuno
12			
	$4D + 4U$		
		$20 + 5$	