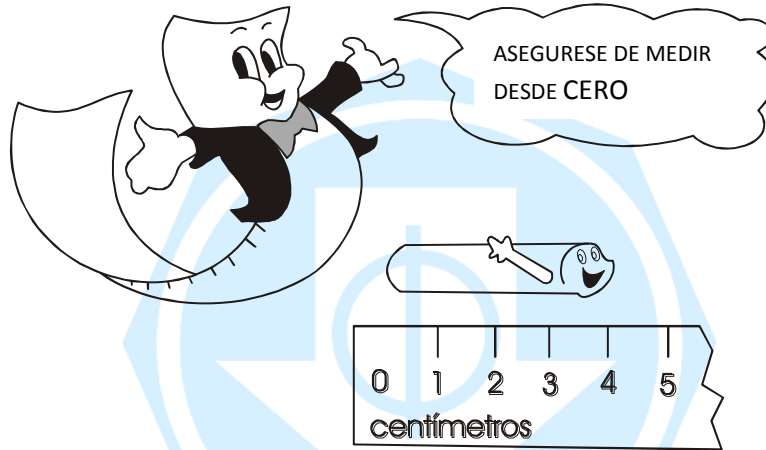




## Los Centímetros



El borrador mide unos 4 centímetros de largo.

\* Estima cuánto miden de largo los siguientes objetos y luego usa tu regla para medir.


		Mi estimación	Cuánto mide
1.		unos _____ cm	_____ cm
2.		unos _____ cm	_____ cm
3.		unos _____ cm	_____ cm
4.		unos _____ cm	_____ cm

# Medición

I. Utiliza tu regla o centímetro para medir los siguientes objetos:

**Manos a la obra!!**

1.




\_\_\_\_\_ cm

2.



\_\_\_\_\_ cm

3.



\_\_\_\_\_ cm

4.



\_\_\_\_\_ cm

5.



\_\_\_\_\_ cm

II. Dibuja según las instrucciones.

a. Una línea de 8 cm con color rojo.

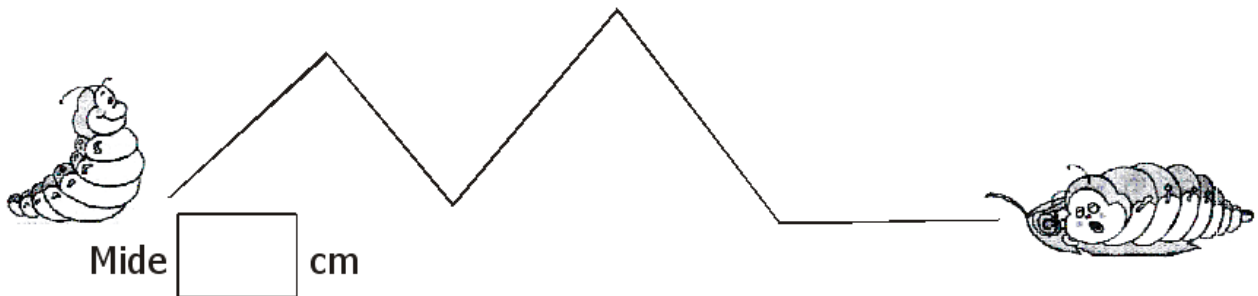
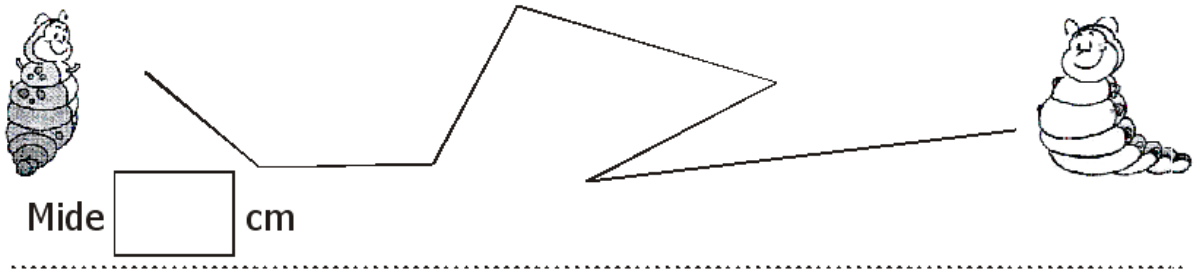
b. Una línea de 15 cm con color verde.

c. Una línea de 11 cm con color azul.

d. Una línea de 4 cm con color verde.

e. ¿Cuál es la línea más larga?  
\_\_\_\_\_ y mide  cm.

III. Mide el camino que dejó Pepita, la oruga.  
Utiliza tu regla.



# Sigo multiplicando

\* Resuelve los siguientes ejercicios de multiplicación según indica la flecha.

$\times$ ✓	0	1	2
5			
8			
9			
6			

$\times$ ✓	2	3	1
10			
2			
4			
3			

$\times$ ✓	3	0	2
5			
7			
0			
1			

$\times$ ✓	1	2	3
2			
0			
9			
11			