



Sistema Monetario

MONEDAS

1. Conozcamos las monedas.



Menores que un sol



10 céntimos



20 céntimos



50 céntimos



1 nuevo sol

Mayores que un sol



2 nuevos soles



5 nuevos soles

Billetes

1. Aprendamos a conocer los billetes y su valor.



10 nuevos soles



50 nuevos soles



20 nuevos soles



















100 nuevos soles



200 nuevos soles





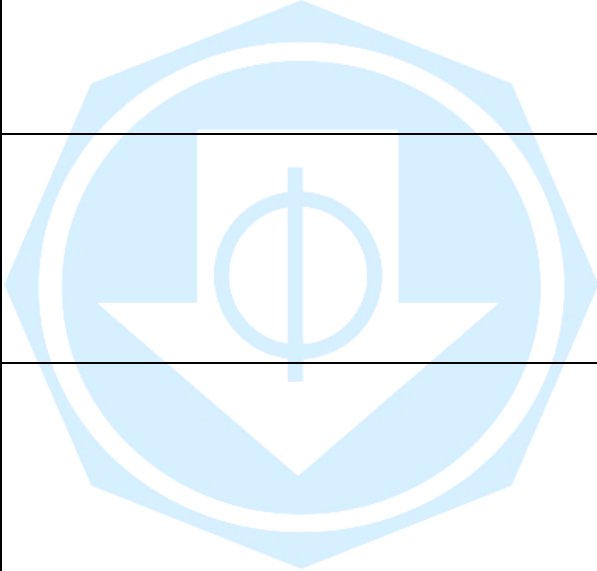





¿Qué compramos?

1. Marca con un "X" los objetos que puedes comprar con todo el dinero de la izquierda.

<p>a</p> 	 <p><input type="checkbox"/> s./ 12</p>	 <p><input type="checkbox"/> s./ 8</p>	 <p><input type="checkbox"/> s./ 18</p>
<p>b</p> 	 <p><input type="checkbox"/> s./ 98</p>	 <p><input type="checkbox"/> s./ 12</p>	 <p><input type="checkbox"/> s./ 21</p>
<p>c</p> 	 <p><input type="checkbox"/> s./ 35</p>	 <p><input type="checkbox"/> s./ 62</p>	 <p><input type="checkbox"/> s./ 27</p>
<p>d</p> 	 <p><input type="checkbox"/> s./ 74</p>	 <p><input type="checkbox"/> s./ 25</p>	 <p><input type="checkbox"/> s./ 22</p>

Cambiemos con sencillo...

1. Dibuja las monedas y/o billetes con que puedas cambiar las cantidades que se te indica.

Practico lo que aprendí

1. Dibuja los billetes y monedas que necesitas para comprar los siguientes objetos.

S/.146



S/.73



S/.318

